

Calcule et complète :

$$60 + 11 = \dots\dots$$

$$60 + 18 = \dots\dots$$

$$60 + 15 = \dots\dots$$

$$60 + 17 = \dots\dots$$

$$60 + 14 = \dots\dots$$

$$60 + 19 = \dots\dots$$

$$60 + 12 = \dots\dots$$

$$60 + 16 = \dots\dots$$

$60 + 13 = \dots\dots$

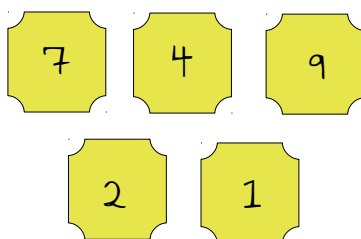
$$60 + 10 = \dots\dots$$

Lis ensuite les nombres à voix haute.

Trouve des solutions :



Je veux
12 jetons.



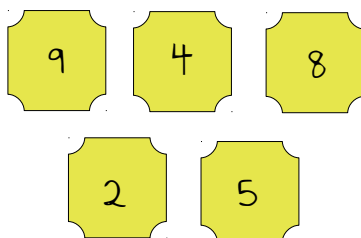
.....

.....

.....



Je veux
14 jetons.



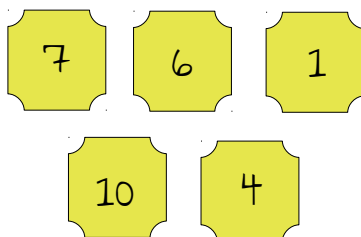
.....

.....

.....



Je veux
11 jetons.



.....

.....

.....

Complète la file numérique :[illegible]