

Calcule et complète :

$60 + 11 = \dots\dots$

$60 + 18 = \dots\dots$

$60 + 15 = \dots\dots$

$60 + 17 = \dots\dots$

$60 + 14 = \dots\dots$

$60 + 19 = \dots\dots$

$60 + 12 = \dots\dots$

$60 + 16 = \dots\dots$

$60 + 13 = \dots\dots$

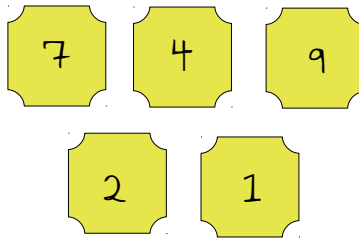
$60 + 10 = \dots\dots$

Lis ensuite les nombres à voix haute.

Trouve des solutions :

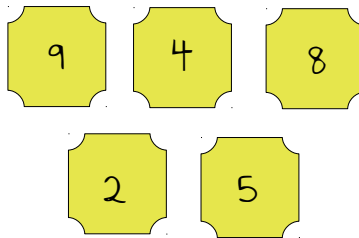


Je veux
12 jetons.



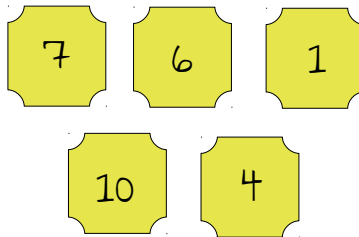


Je veux
14 jetons.





Je veux
11 jetons.



Complète la file numérique :

...	...	60	67
-----	-----	----	-----	-----	-----	-----	-----	----	-----	-----	-----	-----	-----	-----	-----	-----	-----	-----	-----