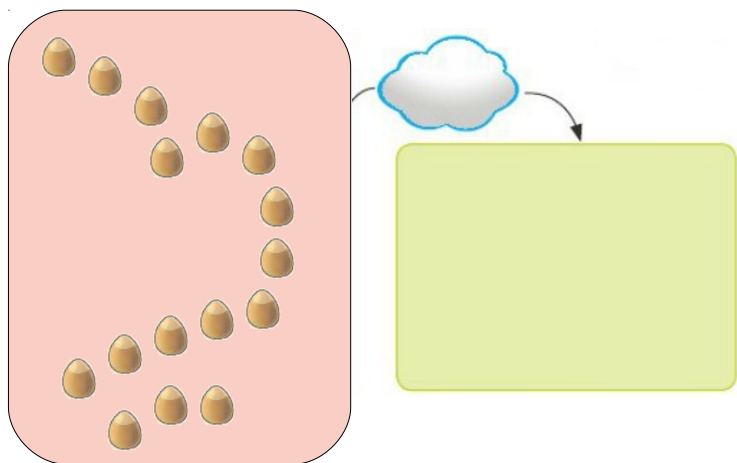
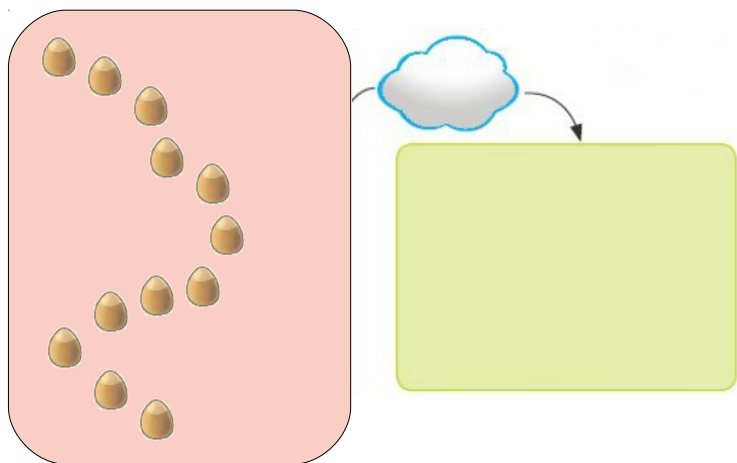
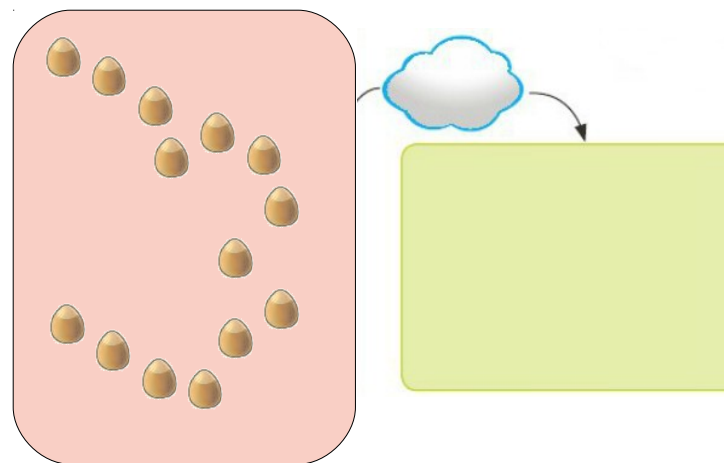
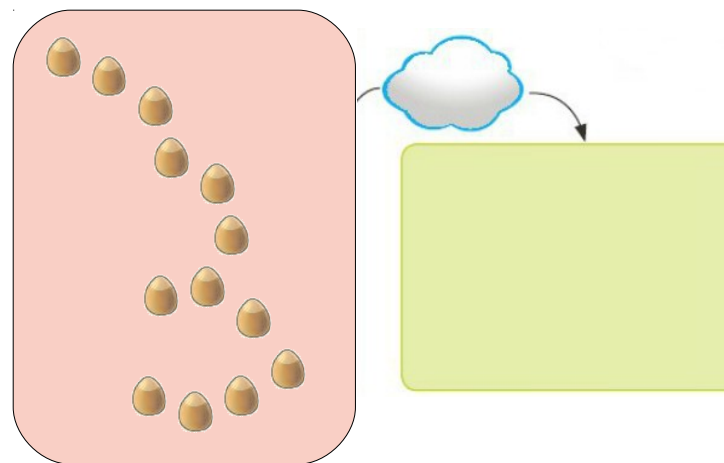


Exercices complémentaires - Séquence 38 page 52
Fais comme Dédé : Calcule, écris le nombre et dessine :



Fais comme Dédé : Calcule, écris le nombre et dessine :



Complète la table des doubles :

$1 + 1 = \text{☁}$

$2 + 2 = \text{☁}$

$3 + 3 = \text{☁}$

$4 + 4 = \text{☁}$

$5 + 5 = \text{☁}$

Complète la table des doubles :

$1 + 1 = \text{☁}$

$2 + 2 = \text{☁}$

$3 + 3 = \text{☁}$

$4 + 4 = \text{☁}$

$5 + 5 = \text{☁}$

Complète la table des doubles :

$1 + 1 = \text{☁}$

$2 + 2 = \text{☁}$

$3 + 3 = \text{☁}$

$4 + 4 = \text{☁}$

$5 + 5 = \text{☁}$

Complète la table des doubles :

$1 + 1 = \text{☁}$

$2 + 2 = \text{☁}$

$3 + 3 = \text{☁}$

$4 + 4 = \text{☁}$

$5 + 5 = \text{☁}$