


Exercice complémentaire - Séquence 36 page 50  
Colorie le nombre de doigts indiqué puis écris une égalité :

17



$$\dots + \dots = \dots$$

13




$$\dots + \dots = \dots$$

20



$$\dots + \dots = \dots$$

14




$$\dots + \dots = \dots$$

19



$$\dots + \dots = \dots$$

18



$$\dots + \dots = \dots$$

Exercice complémentaire - Séquence 36 page 50  
Colorie le nombre de doigts indiqué puis écris une égalité :

17



$$\dots + \dots = \dots$$

13



$$\dots + \dots = \dots$$

20




$$\dots + \dots = \dots$$

14



$$\dots + \dots = \dots$$

19



$$\dots + \dots = \dots$$

18



$$\dots + \dots = \dots$$