


Exercice complémentaire - Séquence 33 page 47
Colorie le nombre de doigts indiqué puis écris une égalité :

12



$$\dots + \dots = \dots$$

14




$$\dots + \dots = \dots$$

16



$$\dots + \dots = \dots$$

15




$$\dots + \dots = \dots$$

11



$$\dots + \dots = \dots$$

13



$$\dots + \dots = \dots$$


Exercice complémentaire - Séquence 33 page 47
Colorie le nombre de doigts indiqué puis écris une égalité :

12



$$\dots + \dots = \dots$$

14




$$\dots + \dots = \dots$$

16



$$\dots + \dots = \dots$$

15




$$\dots + \dots = \dots$$

11



$$\dots + \dots = \dots$$

13



$$\dots + \dots = \dots$$